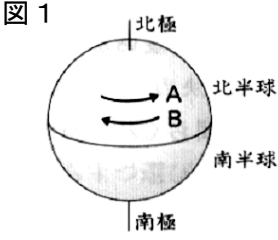


4年理科 週テスト 第8回実施 (3分)

- ① 春の七草にふくまれないものはどれですか。次のア～エから一つ選び、記号で答えなさい。
 ア セリ イ ナズナ ウ ススキ エ スズナ
- ② サクラはどちらの方角から咲いていきますか。東西南北の中から漢字1文字で答えなさい。
- ③ メダカは水温25℃のとき約何日で卵からかえりますか。数字で答えなさい。ただし、次の式が成り立つものとします。

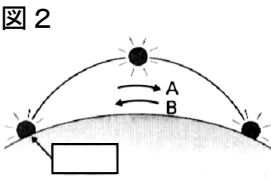
$$\text{水温} \times \text{たまごからかえる日数} = 250$$

- ④ 春になると南の国から日本に移動してくる鳥はどれですか。次のア～エから一つ選び、記号で答えなさい。
 ア スズメ イ カラス ウ ツバメ エ ハクチョウ



右の図1は、1日に1回地球が回転しているようすを表しています。また、右下の図2は1日の太陽の通り道を表しています。

次の文の⑤、⑦は()からあてはまる記号を選び、⑥、⑧はあてはまることばを答えなさい。
 地球は1日に1回、図1の⑤(A、B)の向きに回転しています。これを、地球の(⑥)といいます。そのため、地球からは、地球のまわりの太陽が、図2の⑦(A、B)の向きに動いているように見えます。これを、太陽の(⑧)といいます。



- ⑨ 図2で、の方角は何ですか。東西南北の中から漢字1文字で答えなさい。
- ⑩ 太陽は正午(12時)ごろ南中します。この時こくは、東の地方と西の地方ではどのようにちがいますか。次のア～ウから一つ選び、記号で答えなさい。
 ア 東の地方ほど早くなる。 イ 西の地方ほど早くなる。
 ウ 東の地方も西の地方も変わらず、同じである。

①	②	③ 日	④	⑤	⑥	⑦
⑧		⑨	⑩			


/100

氏名 _____

4年社会 週テスト 第8回実施

(3分)

◆次の各問いに答えなさい。漢字で書くべきところは漢字で答えなさい。

- ① 北海道の道庁所在地はどこですか。
ア 札幌市 イ 盛岡市 ウ 松山市 エ 那覇市
- ② 沖縄県の県庁所在地はどこですか。
ア 札幌市 イ 盛岡市 ウ 松山市 エ 那覇市
- ③ 北海道で行われている、乳牛を飼育して乳製品を生産する農業を何とといいますか。
ア 高冷地農業 イ 酪農 ウ 乳牛農 エ 有機農業
- ④ 日本の最西端となる、沖縄県の島はどこですか。
ア 沖ノ島 イ 択捉島 ウ 南鳥島 エ 与那国島
- ⑤  左の地図記号は何を表していますか。
ア 老人ホーム イ 郵便局 ウ 図書館 エ 消防署
- ⑥ 日本でもっとも東に位置している島がある都道府県はどこですか。
ア 北海道 イ 岩手県 ウ 東京都 エ 和歌山県
- ⑦ 関東地方と中部地方の境にある山地はどれですか。
ア 紀伊山地 イ 筑紫山地 ウ 北見山地 エ 関東山地
- ⑧ 中部地方に含まれる県を、次からすべて選び記号で答えなさい。
ア 愛媛県 イ 岐阜県 ウ 福井県 エ 滋賀県
- ⑨ 連作障害を防ぐために年によって育てる作物を変える工夫を何というか答えなさい。
- ⑩ 長野県から新潟県に流れている、日本で一番長い川の名前を、解答らんにか合うように答えなさい。

①	②	③	④	⑤	⑥	⑦
⑧		⑨		⑩		
						川

※⑧は組んで正解

氏名 _____

/100

4年理科 週テスト 第8回実施 解答

10点×10=100点

- ① ウ
- ② 南
- ③ 10日
- ④ ウ
- ⑤ A
- ⑥ 自転
- ⑦ A
- ⑧ 日周運動
- ⑨ 東
- ⑩ ア

4年社会 週テスト 第8回実施 解答

10点×10=100点

- ① ア
- ② エ
- ③ イ
- ④ エ
- ⑤ ア
- ⑥ ウ
- ⑦ エ
- ⑧ イ・ウ
- ⑨ 輪作
- ⑩ 信濃(川)

※⑧は組んで正解