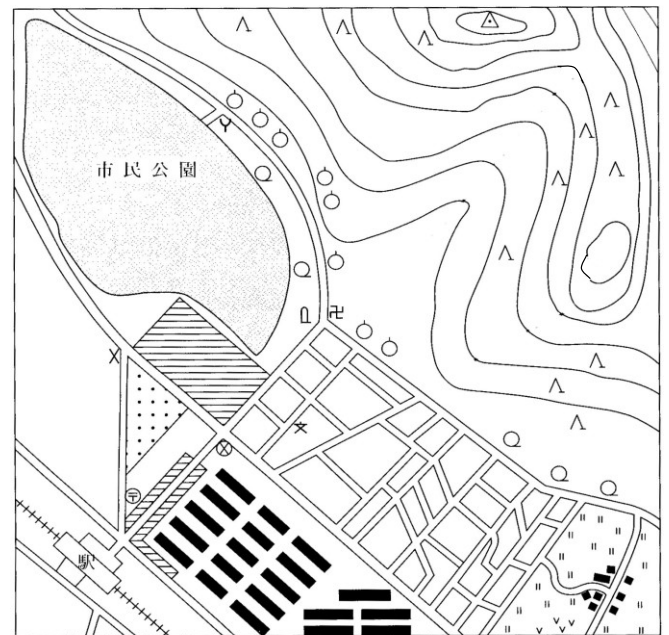
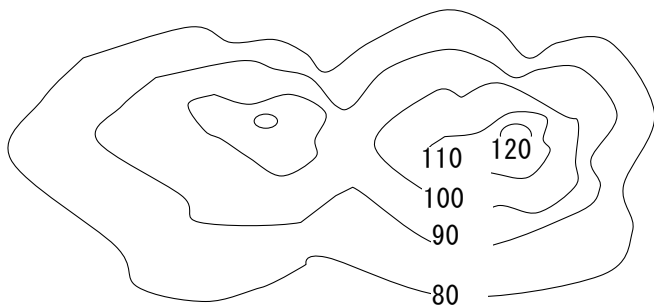


◆次の①～⑮の地図記号が表すものを、後のア～トから選び、記号で答えなさい。

- ① ② ③ ④ ⑤ ⑥ ⑦ ⑧
 ⑨ ⑩ ⑪ ⑫ ⑬ ⑭ ⑮

- ア 水田 イ 畑 ウ くだもの畑 エ 茶畑 オ くわ畑 カ 針葉樹林 キ 広葉樹林
 ク 寺院 ケ 神社 コ 博物館・美術館 サ 工場 シ 警察署 ス 小・中学校
 セ 交番 ソ 灯台 タ 発電所・変電所 チ 郵便局 ツ 病院 テ 記念碑 ト 自然災害伝承碑

①	②	③	④	⑤	⑥	⑦	⑧
⑨	⑩	⑪	⑫	⑬	⑭	⑮	



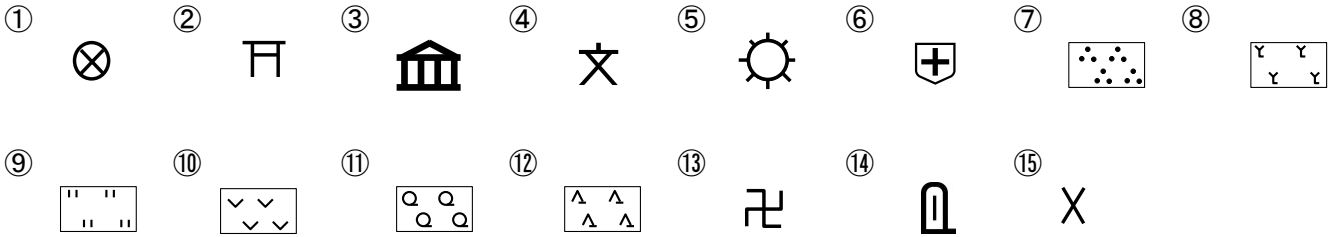
- ⑯ 上の地図の線のことを何といいますか。
 ⑰ 上の地図の縮尺は、何分の1の地図ですか。
 ⑱ 50000分の1の縮尺の地図で12cmのとき、実際の長さは何mですか。
 ⑲ 地図はふつうどの方角が上になっていますか。
 ⑳ 右上の地図で、駅から見て三角点はどの方角にありますか。八方位で答えなさい。

⑯	⑰	⑱	⑲	⑳
		m		

氏名

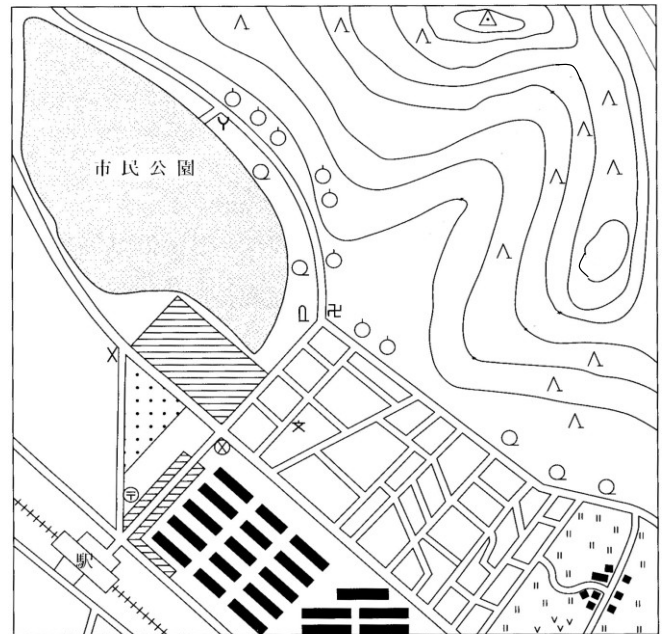
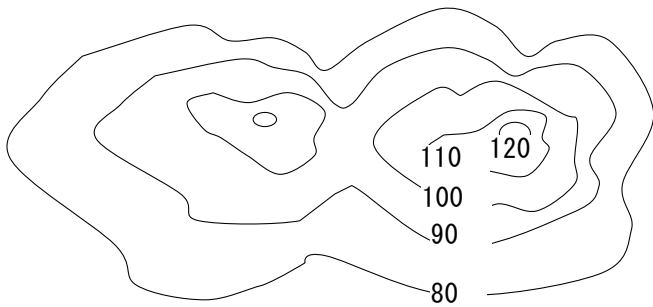
/100

◆次の①～⑮の地図記号が表すものを、後のア～トから選び、記号で答えなさい。



- ア 水田 イ 畑 ウ くだもの畑 エ 茶畑 オ くわ畑 カ 針葉樹林 キ 広葉樹林
 ク 寺院 ケ 神社 コ 博物館・美術館 サ 工場 シ 警察署 ス 小・中学校
 セ 交番 ソ 灯台 タ 発電所・変電所 チ 郵便局 ツ 病院 テ 記念碑 ト 自然災害伝承碑

①	②	③	④	⑤	⑥	⑦	⑧
⑨	⑩	⑪	⑫	⑬	⑭	⑮	



- ⑯ 上の地図の線のことを何といいますか。
 ⑰ 上の地図の縮尺は、何分の1の地図ですか。
 ⑱ 50000分の1の縮尺の地図で12cmのとき、実際の長さは何mですか。
 ⑲ 地図はふつうどの方角が上になっていますか。
 ⑳ 右上の地図で、駅から見て三角点はどの方角にありますか。八方位で答えなさい。

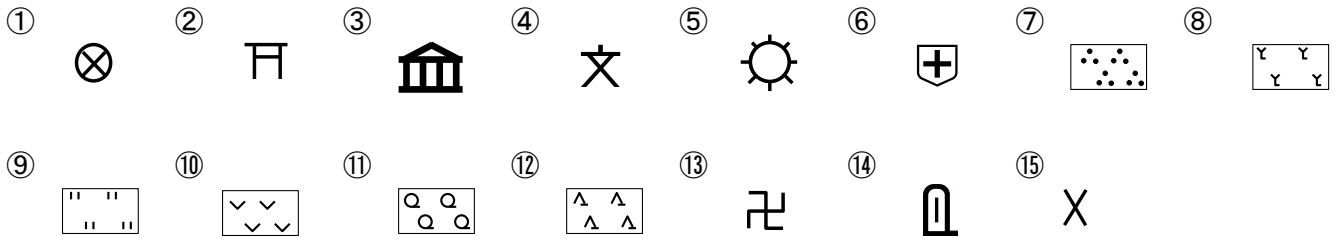
⑯	⑰	⑱	m	⑲	⑳
---	---	---	---	---	---

氏名

/100

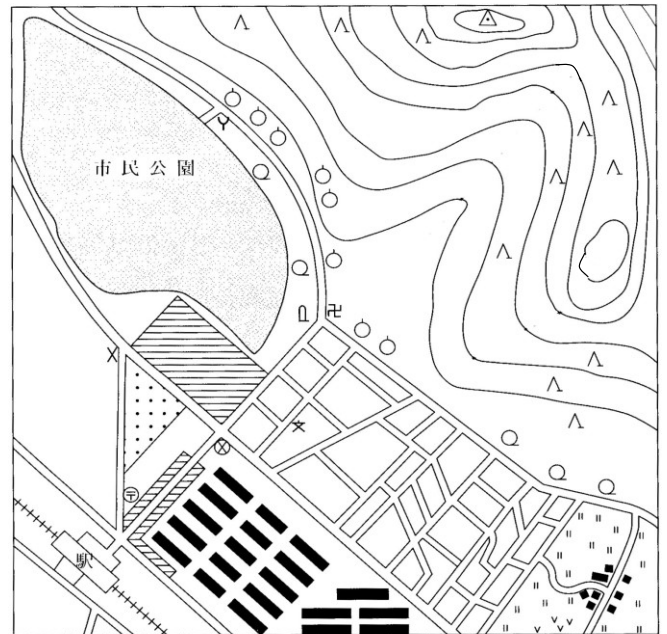
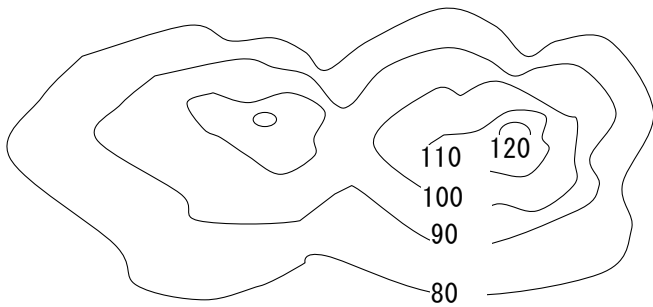
1つ5点 100点満点=ポイント数 満点は200p

◆次の①～⑮の地図記号が表すものを、後のア～トから選び、記号で答えなさい。



- ア 水田 イ 畑 ウ くだもの畑 エ 茶畑 オ くわ畑 カ 針葉樹林 キ 広葉樹林
 ク 寺院 ケ 神社 コ 博物館・美術館 サ 工場 シ 警察署 ス 小・中学校
 セ 交番 ソ 灯台 タ 発電所・変電所 チ 郵便局 ツ 病院 テ 記念碑 ト 自然災害伝承碑

①	②	③	④	⑤	⑥	⑦	⑧
シ	ケ	コ	ス	サ	ツ	エ	オ
⑨	⑩	⑪	⑫	⑬	⑭	⑮	
ア	イ	キ	カ	ク	ト	セ	



- ⑯ 上の地図の線のことを何といいますか。
 ⑰ 上の地図の縮尺は、何分の1の地図ですか。
 ⑱ 50000分の1の縮尺の地図で12cmのとき、実際の長さは何mですか。
 ⑲ 地図はふつうどの方角が上になっていますか。
 ⑳ 右上の地図で、駅から見て三角点はどの方角にありますか。八方位で答えなさい。

⑯	⑰	⑱	⑲
等高線	25000分の1	6000 m	北
			北東

氏名 _____

/100