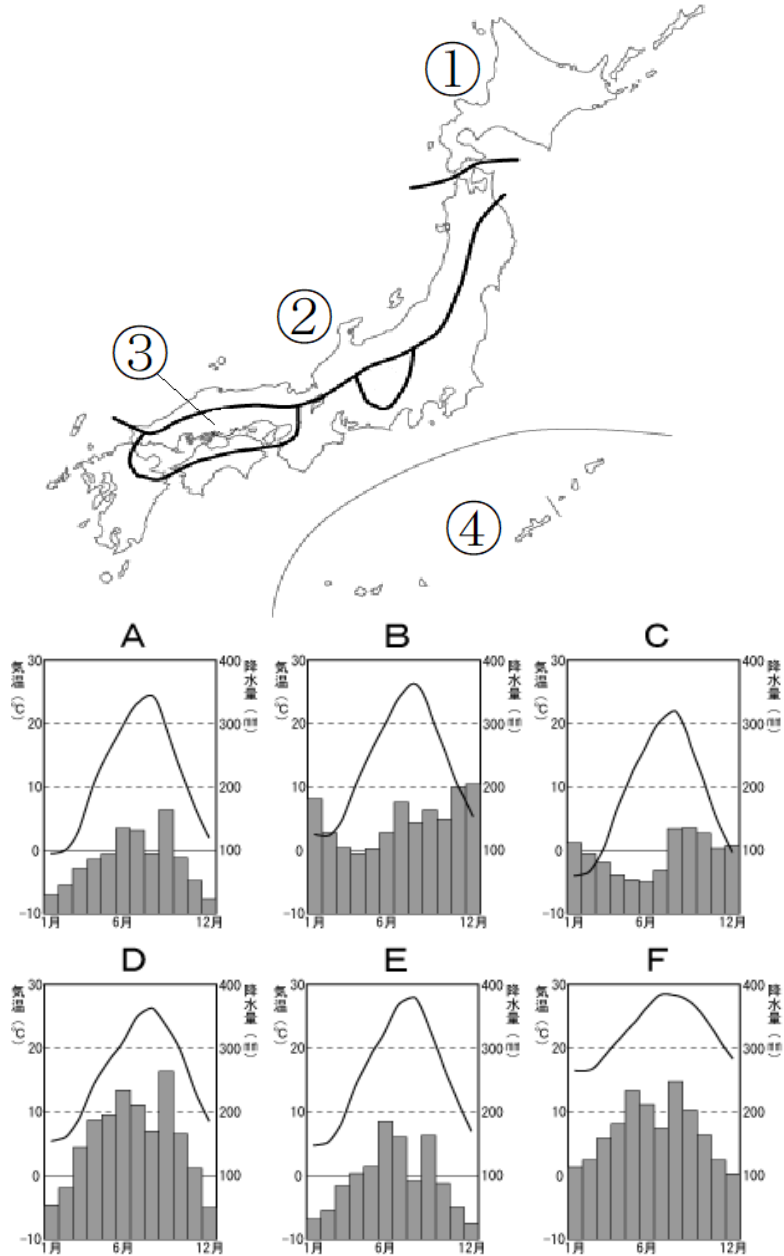


6年社会 週テスト 第38回実施 (7分)

氏名	得点
----	----

※漢字で書くべき箇所は漢字で書きなさい。

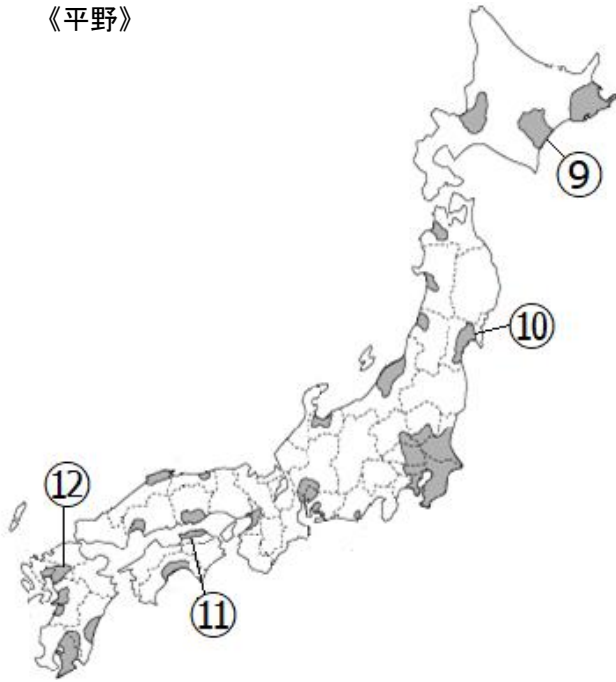
◎下の地図中の①～④に当てはまる雨温図を右のA～Fの中から選び、それぞれ記号で答えなさい。



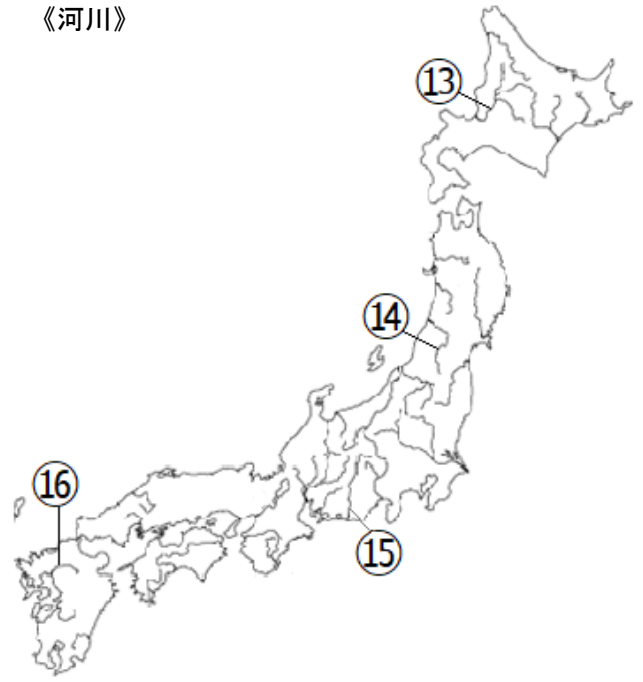
- ⑤ 日本の最南端（最も南にある場所）はどこですか。
 ア 択捉島 イ 与那国島 ウ 沖ノ鳥島 エ 南鳥島
- ⑥ 日本の標準時は、東経何度の線を基準にして決められていますか。
 ア 東経125度 イ 東経130度 ウ 東経135度 エ 東経140度
- ⑦ イタイイタイ病の原因物質は何ですか。
 ア カドミウム イ ダイオキシン ウ 有機水銀 エ 亜硫酸ガス
- ⑧ 赤道付近の熱帯地方で深刻化している環境破壊は何ですか。
 ア 地球温暖化 イ 砂漠化 ウ 酸性雨 エ 熱帯林の伐採

◎下の地図の⑨～⑳までの地形の名前を、解答欄に合うように答えなさい。

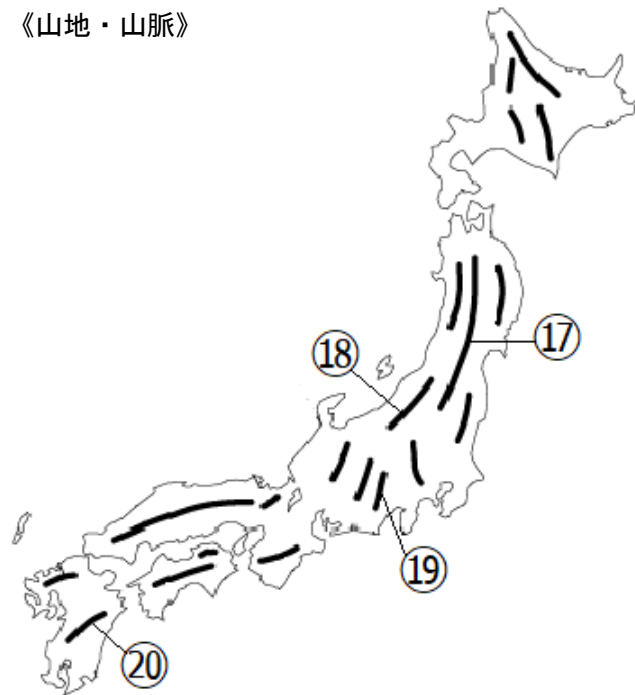
《平野》



《河川》



《山地・山脈》



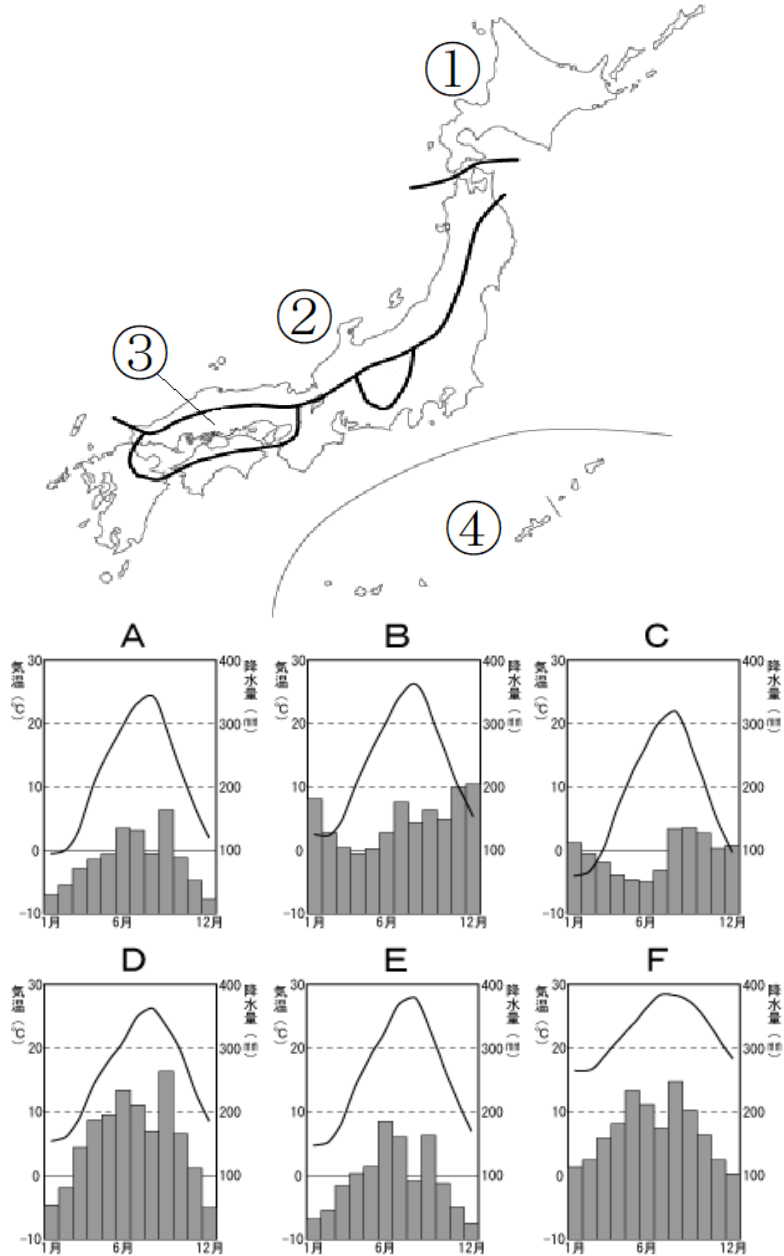
①	②	③	④	⑤	⑥	⑦	⑧
⑨	平野	⑩	平野	⑪	平野		
⑫	平野	⑬	川	⑭	川		
⑮	川	⑯	川	⑰	山脈		
⑱	山脈	⑲	山脈	⑳	山地		

6年社会 週テスト 第38回実施 復習用

氏名	得点
----	----

※漢字で書くべき箇所は漢字で書きなさい。

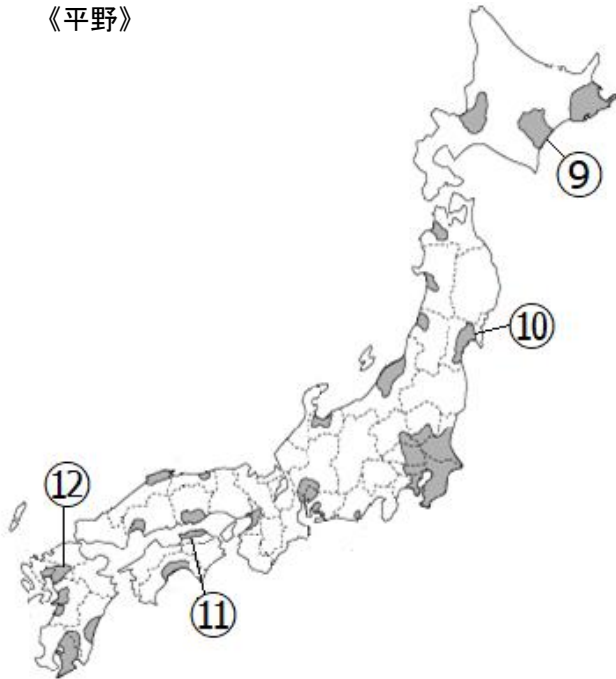
◎下の地図中の①～④に当てはまる雨温図を右のA～Fの中から選び、それぞれ記号で答えなさい。



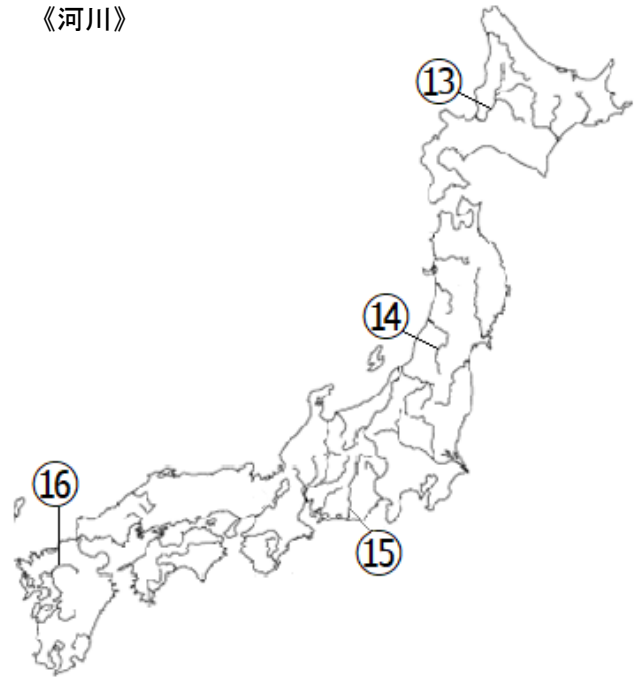
- ⑤ 日本の最南端（最も南にある場所）はどこですか。
 ア 択捉島 イ 与那国島 ウ 沖ノ鳥島 エ 南鳥島
- ⑥ 日本の標準時は、東経何度の線を基準にして決められていますか。
 ア 東経125度 イ 東経130度 ウ 東経135度 エ 東経140度
- ⑦ イタイイタイ病の原因物質は何ですか。
 ア カドミウム イ ダイオキシン ウ 有機水銀 エ 亜硫酸ガス
- ⑧ 赤道付近の熱帯地方で深刻化している環境破壊は何ですか。
 ア 地球温暖化 イ 砂漠化 ウ 酸性雨 エ 熱帯林の伐採

◎下の地図の⑨～⑳までの地形の名前を、解答欄に合うように答えなさい。

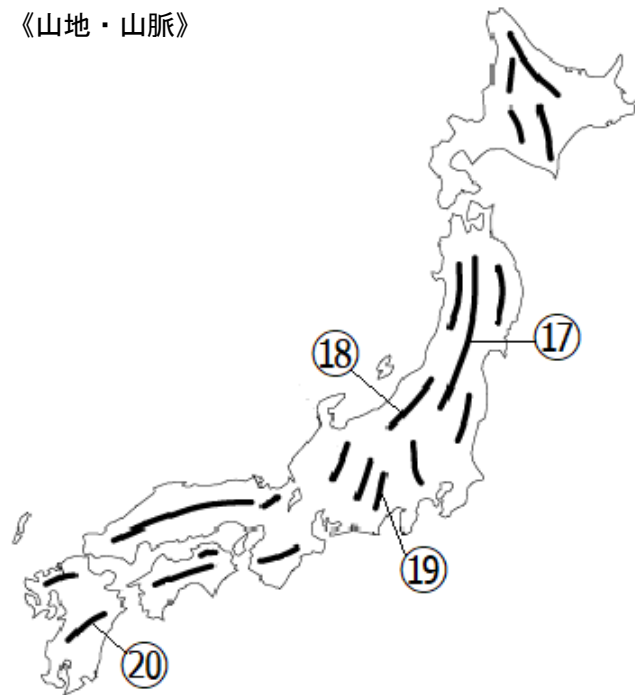
《平野》



《河川》



《山地・山脈》



①	②	③	④	⑤	⑥	⑦	⑧
⑨	平野	⑩	平野	⑪	平野		
⑫	平野	⑬	川	⑭	川		
⑮	川	⑯	川	⑰	山脈		
⑱	山脈	⑲	山脈	⑳	山地		

6年社会 週テスト 第38回実施 解答

5点×20=100点

- ① C
- ② B
- ③ E
- ④ F
- ⑤ ウ
- ⑥ ウ
- ⑦ ア
- ⑧ エ
- ⑨ 十勝(平野)
- ⑩ 仙台(平野)
- ⑪ 讃岐(平野)
- ⑫ 筑紫(平野)
- ⑬ 石狩(川)
- ⑭ 最上(川)
- ⑮ 天竜(川)
- ⑯ 筑後(川)
- ⑰ 奥羽(山脈)
- ⑱ 越後(山脈)
- ⑲ 赤石(山脈)
- ⑳ 九州(山地)