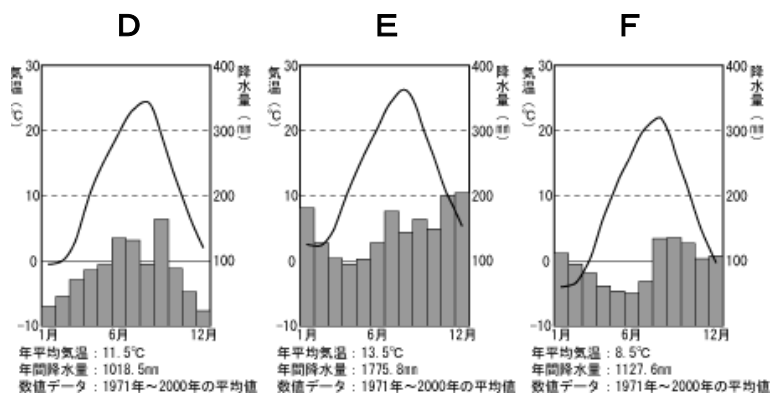
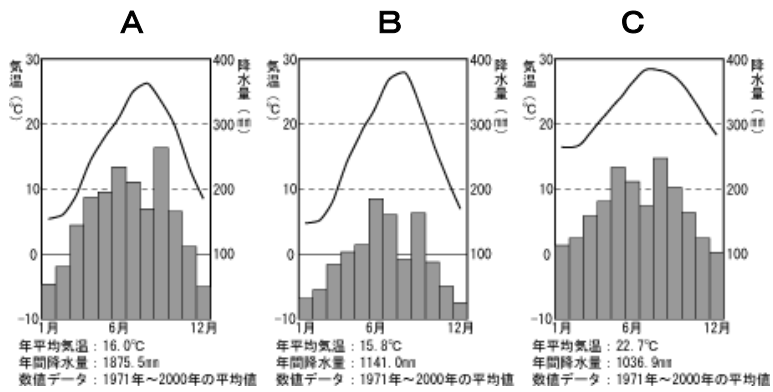
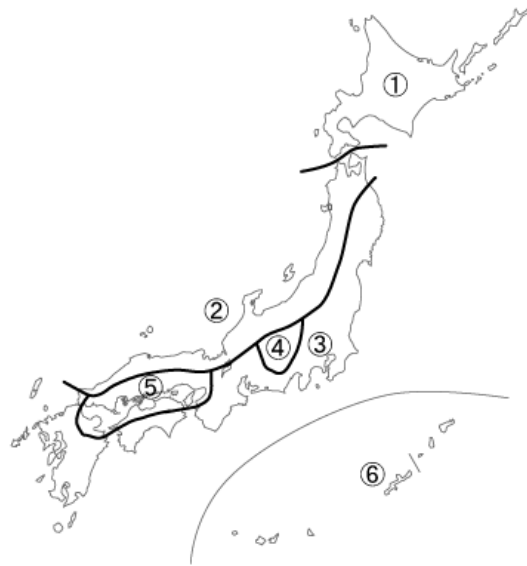


5年社会 週テスト 第2回実施 (7分)

1 下の地図中の①～⑥にあてはまる雨温図を下のA～Fの中から選びなさい。



①	②	③	④	⑤	⑥
---	---	---	---	---	---

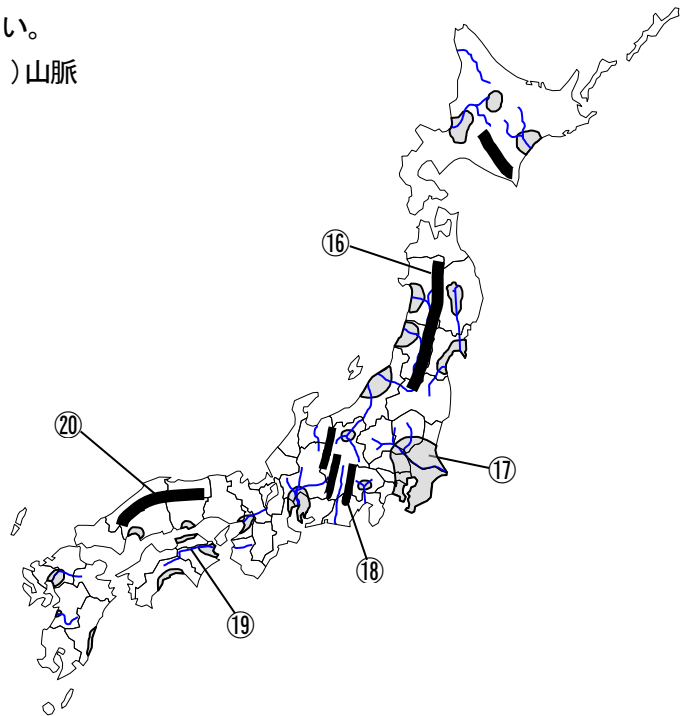
2 次の⑦～⑮の各問いに答えなさい。漢字で書くべきところは漢字で答えなさい。

- ⑦ 日本の大部分の地域は、気候区分において何帯に属していますか。
- ⑧ 日本の気候に強い影響を与える、吹いてくる方角が夏と冬で変わる風を何とといいますか。
- ⑨ 暖かい気候を太平洋側にもたらず暖流を、解答欄に合うように 答えなさい。
- ⑩ 日照りの害のことを何とといいますか。漢字2字で答えなさい。
- ⑪ 冷害が起こる季節を答えなさい。
- ⑫ 東北地方の太平洋側に吹く、冷害の原因となる北東の風を何とといいますか。
- ⑬ 阿蘇山などにみられる、火山の爆発によって噴火口にできた大きなくぼ地のことを何とといいますか。
- ⑭ 日本で一番長い川の名前を答えなさい。
- ⑮ 日本で一番流域面積が広い川の名前を答えなさい。

⑦	⑧	⑨
帯		海流
⑩	⑪	⑫
⑬	⑭	⑮
	川	川

2 次の⑯～⑳にあてはまる言葉を漢字で書きなさい。

- (⑯) 山脈 (⑰) 平野 (⑱) 山脈
 (⑲) 川 (⑳) 山地

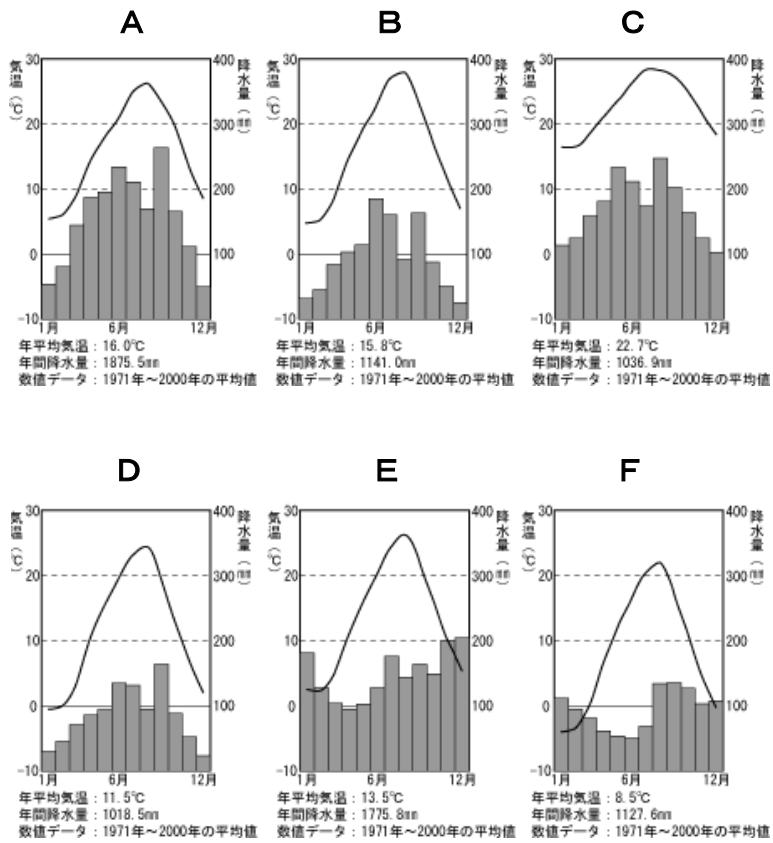
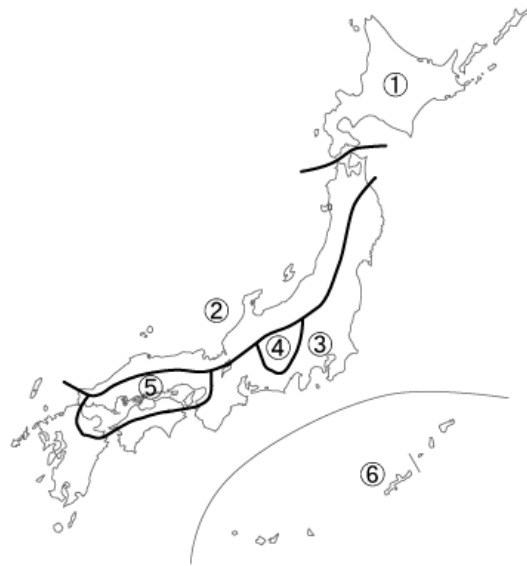


⑯	⑰	⑱
山脈	平野	山脈
⑲	⑳	
川	山地	

名前

5年社会 週テスト 第2回実施 復習用

1 下の地図中の①～⑥にあてはまる雨温図を下のA～Fの中から選びなさい。



①	②	③	④	⑤	⑥
---	---	---	---	---	---

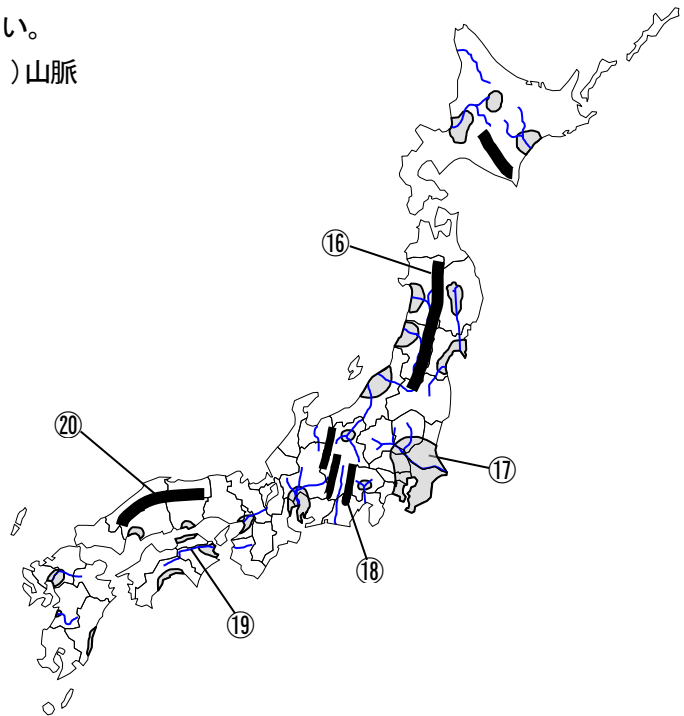
2 次の⑦～⑮の各問いに答えなさい。漢字で書くべきところは漢字で答えなさい。

- ⑦ 日本の大部分の地域は、気候区分において何帯に属していますか。
- ⑧ 日本の気候に強い影響を与える、吹いてくる方角が夏と冬で変わる風を何とといいますか。
- ⑨ 暖かい気候を太平洋側にもたらず暖流を、解答欄に合うように 答えなさい。
- ⑩ 日照りの害のことを何とといいますか。漢字2字で答えなさい。
- ⑪ 冷害が起こる季節を答えなさい。
- ⑫ 東北地方の太平洋側に吹く、冷害の原因となる北東の風を何とといいますか。
- ⑬ 阿蘇山などにみられる、火山の爆発によって噴火口にできた大きなくぼ地のことを何とといいますか。
- ⑭ 日本で一番長い川の名前を答えなさい。
- ⑮ 日本で一番流域面積が広い川の名前を答えなさい。

⑦	⑧	⑨
帯		海流
⑩	⑪	⑫
⑬	⑭	⑮
	川	川

3 次の⑯～⑳にあてはまる言葉を漢字で書きなさい。

- (⑯) 山脈 (⑰) 平野 (⑱) 山脈
 (⑲) 川 (⑳) 山地



⑯	⑰	⑱
山脈	平野	山脈
⑲	⑳	
川	山地	

名前 _____

5年社会 週テスト 第2回実施 解答5点×20=100点

- 1
- ① F
 - ② E
 - ③ A
 - ④ D
 - ⑤ B
 - ⑥ C
- 2
- ⑦ 温（帯）
 - ⑧ 季節風
 - ⑨ 日本（海流）
 - ⑩ 干害
 - ⑪ 夏
 - ⑫ やませ
 - ⑬ カルデラ
 - ⑭ 信濃（川）
 - ⑮ 利根（川）
- 3
- ⑯ 奥羽（山脈）
 - ⑰ 関東（平野）
 - ⑱ 赤石（山脈）
 - ⑲ 吉野（川）
 - ⑳ 中国（山地）