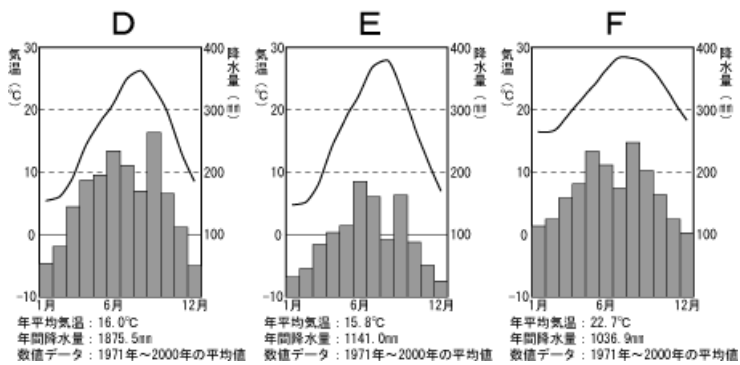
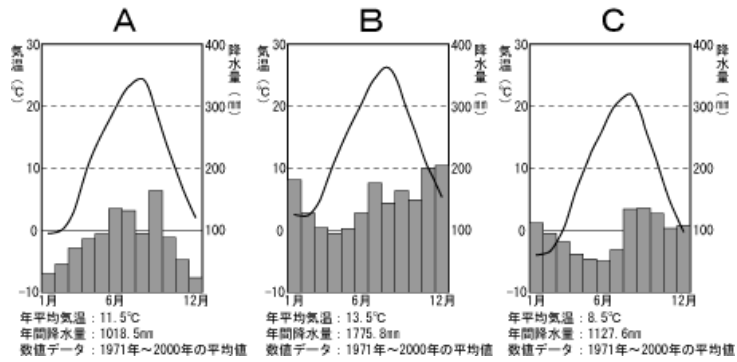
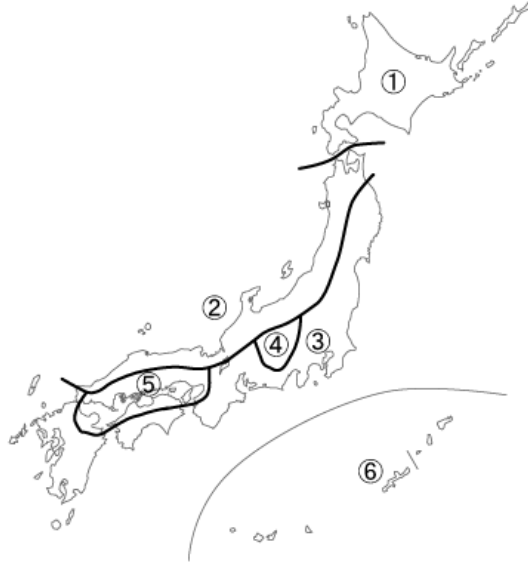


5年社会 確認テスト 第1回実施 (7分)

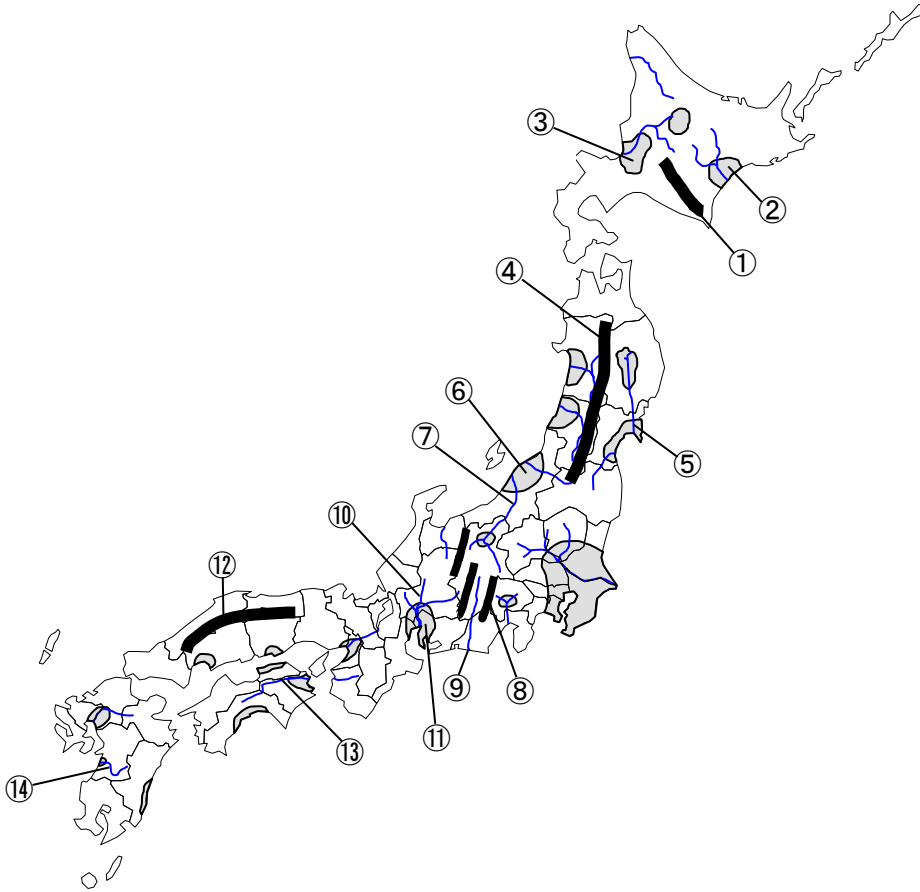
1 下の地図中の①～⑥にあてはまる雨温図を下のA～Fの中から選びなさい。



①	②	③	④	⑤	⑥
---	---	---	---	---	---

2 次の①～⑭にあてはまる言葉をそれぞれの語群から選び、漢字で書きなさい。

- | | | | |
|----------|----------|----------|----------|
| (①) 山脈 | (②) 平野 | (③) 平野 | (④) 山脈 |
| (⑤) 川 | (⑥) 平野 | (⑦) 川 | (⑧) 山脈 |
| (⑨) 川 | (⑩) 川 | (⑪) 平野 | (⑫) 山地 |
| (⑬) 川 | (⑭) 川 | | |



平野
筑紫・濃尾・十勝
越後・庄内・石狩

山地・山脈
日高・奥羽・飛驒
赤石・紀伊・中国

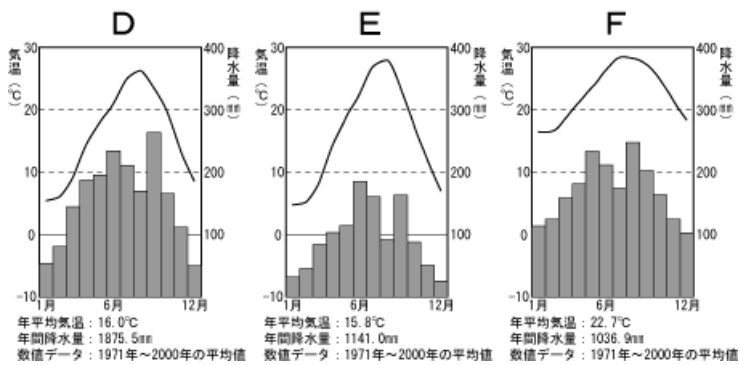
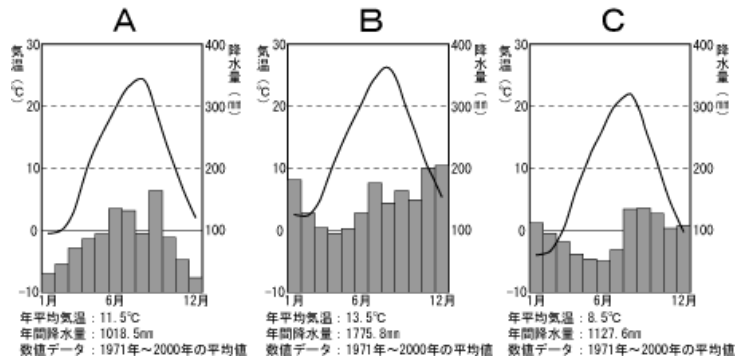
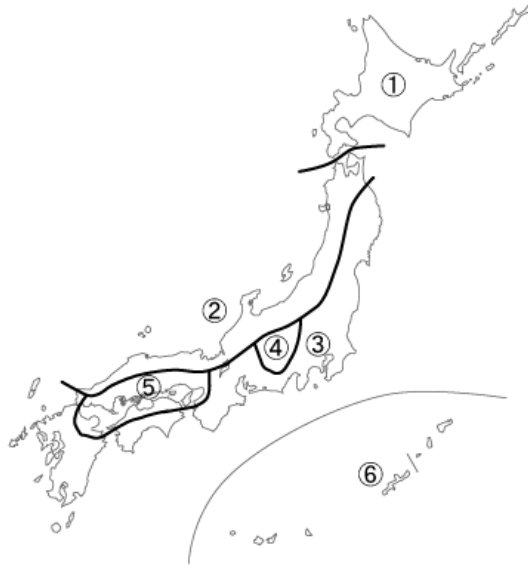
川
球磨・天竜・吉野
長良・信濃・北上

①	山脈	②	平野	③	平野
④	山脈	⑤	川	⑥	平野
⑦	川	⑧	山脈	⑨	川
⑩	川	⑪	平野	⑫	山地
⑬	川	⑭	川		

名前 _____

5年社会 確認テスト 第1回実施 復習用

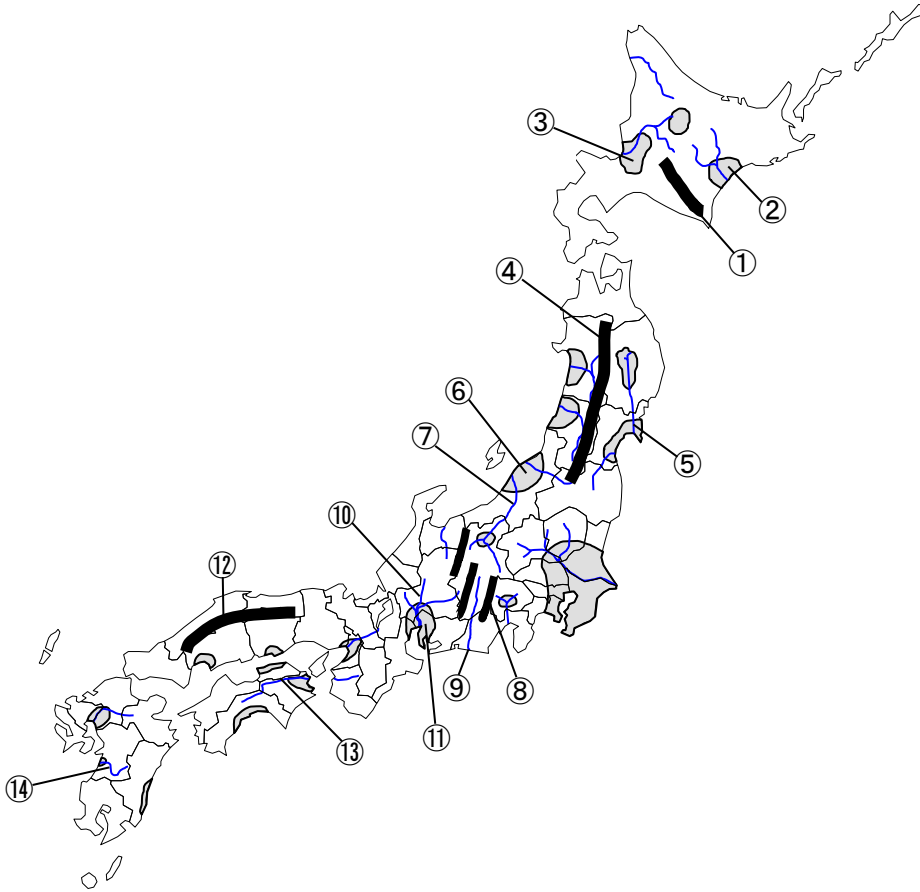
1 下の地図中の①～⑥にあてはまる雨温図を下のA～Fの中から選びなさい。



①	②	③	④	⑤	⑥
---	---	---	---	---	---

2 次の①～⑭にあてはまる言葉をそれぞれの語群から選び、漢字で書きなさい。

- | | | | |
|----------|----------|----------|----------|
| (①) 山脈 | (②) 平野 | (③) 平野 | (④) 山脈 |
| (⑤) 川 | (⑥) 平野 | (⑦) 川 | (⑧) 山脈 |
| (⑨) 川 | (⑩) 川 | (⑪) 平野 | (⑫) 山地 |
| (⑬) 川 | (⑭) 川 | | |



平野
筑紫・濃尾・十勝
越後・庄内・石狩

山地・山脈
日高・奥羽・飛驒
赤石・紀伊・中国

川
球磨・天竜・吉野
長良・信濃・北上

①	山脈	②	平野	③	平野
④	山脈	⑤	川	⑥	平野
⑦	川	⑧	山脈	⑨	川
⑩	川	⑪	平野	⑫	山地
⑬	川	⑭	川		

名前 _____

1 ① C

② B

③ D

④ A

⑤ E

⑥ F

2 ① 日高 (山脈)

② 十勝 (平野)

③ 石狩 (平野)

④ 奥羽 (山脈)

⑤ 北上 (川)

⑥ 越後 (平野)

⑦ 信濃 (川)

⑧ 赤石 (山脈)

⑨ 天竜 (川)

⑩ 長良 (川)

⑪ 濃尾 (平野)

⑫ 中国 (山地)

⑬ 吉野 (川)

⑭ 球磨 (川)