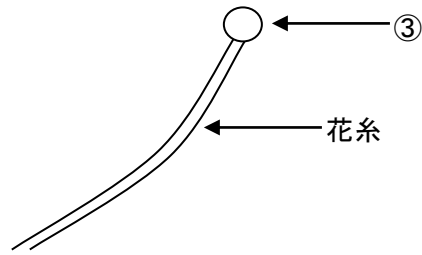
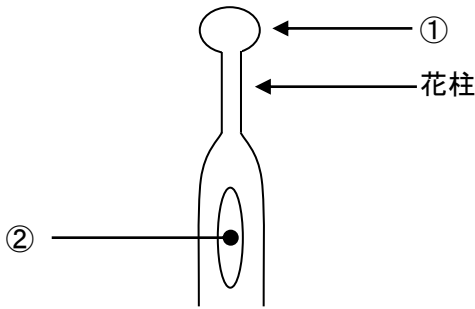


5年理科 週テスト 第3回実施 (5分)

左はめしべ、右はおしべの図です。①～③にあてはまるものをそれぞれ記号で答えなさい。



ア 子房 イ 柱頭 ウ 胚珠 エ やく

- ④ 将来、実になる部分はどこですか。上のア～エから選び、記号で答えなさい。
- ⑤ 次のア～カから、虫媒花の様子を3つ選び、記号で答えなさい。
 ア 花がきれい。 イ 花は目立たない。 ウ 香りがある。 エ においがいい。
 オ 花粉は大きく重い。 カ 花粉は小さく軽い。
- ⑥ アサガオ、ジャガイモ、タンポポ、サクラの花びらの枚数は同じです。何枚か数字で答えなさい。
- ⑦ アブラナの花びらの枚数を数字で答えなさい。
- ⑧ 双子葉類のうち、合弁花を次のア～オから2つ選び、記号で答えなさい。
 ア アサガオ イ タンポポ ウ サクラ エ イネ オ トウモロコシ
- ⑨ おしべでつくられた花粉がめしべの柱頭につくことを何といいますか。
- ⑩ 1つの花に、がく・花びら・おしべ・めしべの4つ（花の4要素）がそろっている花を何といいますか。

①	②	③	④	⑤		
⑥ 枚	⑦ 枚	⑧				
⑨		⑩				

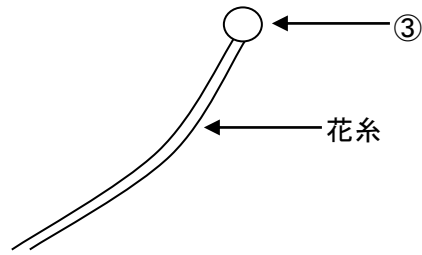
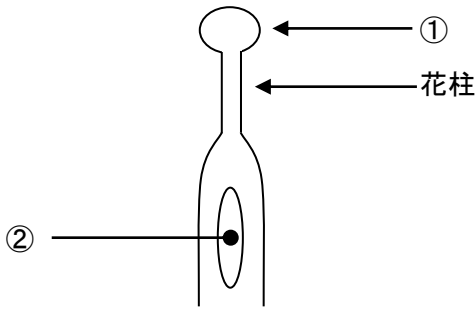
※⑤・⑧は組んで正解

氏名 _____

/100

5年理科 週テスト 第3回実施 復習用

左はめしべ、右はおしべの図です。①～③にあてはまるものをそれぞれ記号で答えなさい。



ア 子房 イ 柱頭 ウ 胚珠 エ やく

- ④ 将来、実になる部分はどこですか。上のア～エから選び、記号で答えなさい。
- ⑤ 次のア～カから、虫媒花の様子を3つ選び、記号で答えなさい。
 ア 花がきれい。 イ 花は目立たない。 ウ 香りがある。 エ においがいい。
 オ 花粉は大きく重い。 カ 花粉は小さく軽い。
- ⑥ アサガオ、ジャガイモ、タンポポ、サクラの花びらの枚数は同じです。何枚か数字で答えなさい。
- ⑦ アブラナの花びらの枚数を数字で答えなさい。
- ⑧ 双子葉類のうち、合弁花を次のア～オから2つ選び、記号で答えなさい。
 ア アサガオ イ タンポポ ウ サクラ エ イネ オ トウモロコシ
- ⑨ おしべでつくられた花粉がめしべの柱頭につくことを何といいますか。
- ⑩ 1つの花に、がく・花びら・おしべ・めしべの4つ（花の4要素）がそろっている花を何といいますか。

①	②	③	④	⑤		
⑥	⑦	⑧				
枚		枚				
⑨		⑩				

※⑤・⑧は組んで正解

氏名 _____

/100

5年理科 週テスト 第3回実施 解答

10 点 × 10 = 100 点

- ① イ
- ② ウ
- ③ エ
- ④ ア
- ⑤ ア・ウ・オ
- ⑥ 5 (枚)
- ⑦ 4 (枚)
- ⑧ ア・イ
- ⑨ 受粉
- ⑩ 完全花